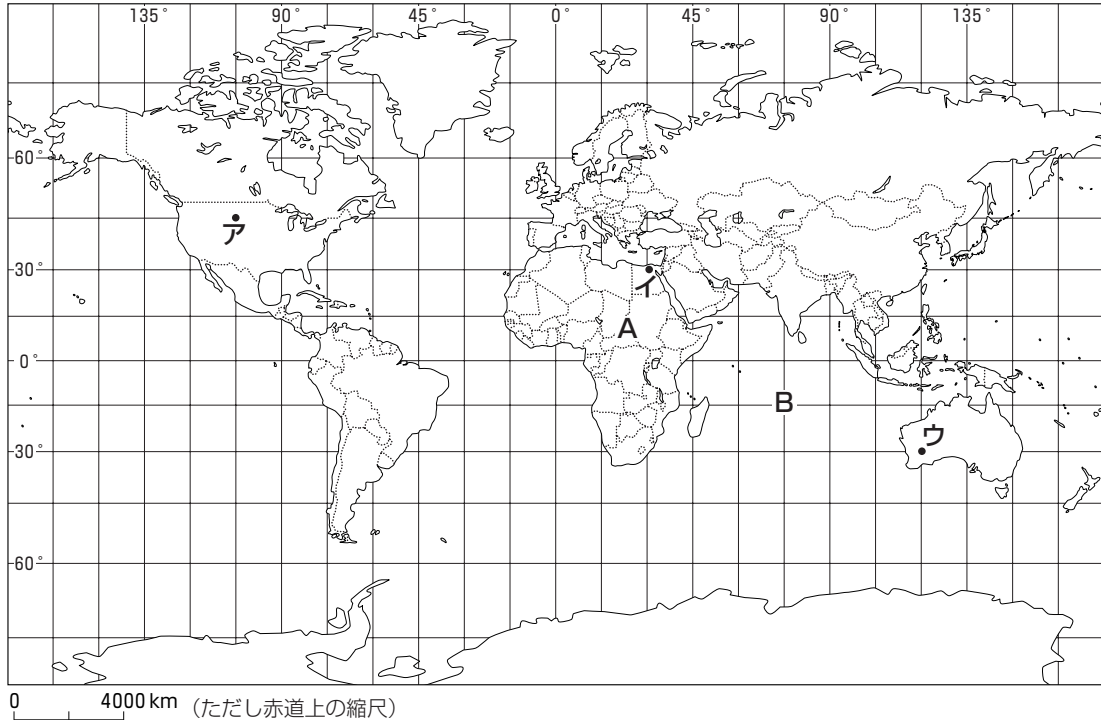


中学2年 社会

1

次の地図を見て、あとの(1)～(4)の問いに答えなさい。



(※経線・緯線は15度おきにひかれている)

(1) 地図中のAの大陸とBの大洋の組み合わせを正しく表しているものはどれですか。1～4の中から1つ選び、その番号を書きなさい。 ①

- | | | |
|---|-----------|--------|
| 1 | A：アフリカ大陸 | B：インド洋 |
| 2 | A：アフリカ大陸 | B：大西洋 |
| 3 | A：南アメリカ大陸 | B：インド洋 |
| 4 | A：南アメリカ大陸 | B：大西洋 |

(2) 地図中のアとウの位置を、緯度・経度で表すとどのようになりますか。1～4の中から正しい組み合わせを1つ選び、その番号を書きなさい。 ②

- | | | |
|---|----------------|----------------|
| 1 | ア：南緯45度，東経105度 | ウ：北緯30度，西経120度 |
| 2 | ア：南緯45度，西経105度 | ウ：北緯30度，東経120度 |
| 3 | ア：北緯45度，東経105度 | ウ：南緯30度，西経120度 |
| 4 | ア：北緯45度，西経105度 | ウ：南緯30度，東経120度 |

(3) 地図中のイの都市と東京との時差は何時間ありますか。経線をもとに考えて、1～4の中から1つ選び、その番号を書きなさい。 ③

- 1 1時間
- 2 4時間
- 3 7時間
- 4 10時間

(4) 地図をもとに、それぞれの国について説明したものとして正しいものを、1～4の中から1つ選び、その番号を書きなさい。 ④

- 1 ロシア連邦れんぽうの大部分は、日本よりも低緯度いゐに位置している。
- 2 ニュージーランドは、日本が位置する経度けいどの範囲内はんいに入る。
- 3 ブラジルは、その北部を赤道が通っている。
- 4 ドイツは、南半球に位置する国のひとつである。

2

次の地図を見て、あとの(1)～(3)の問いに答えなさい。



- (1) 県の東部を、日本標準時子午線が通っている県名を書きなさい。 ⑤
- (2) 地図では、栃木県、神奈川県、岐阜県、島根県の4県のうち、3県に色がぬられています。残りの1県を鉛筆でぬりなさい。 ⑥
- (3) 群馬県、千葉県、長野県、滋賀県の4県から、次の□内のすべての条件にあてはまる県を、あとの1～4の中から1つ選び、その番号を書きなさい。 ⑦

- ・内陸に位置しており、海に面していない。
- ・県名と県庁所在地名がちがう。
- ・日本を7つの地方区分に分けると、関東地方にふくまれる。


1 群馬県 2 千葉県 3 長野県 4 滋賀県

3

次の地図を見て、あとの(1)~(3)の問いに答えなさい。



(平成17年発行 国土地理院2万5千分の1地形図「高松北部」。なお、問題に関する地名・記号は拡大してあります。)

- (1) 地図中の  で示した①~④のうち、傾きがもっとも急なところを1つ選び、その番号を書きなさい。 8
- (2) A地点の「たかまつ駅」からB地点の高松市役所まで、地図中では4 cm 離れています。実際の距離は何 km ですか。 9
- (3) 地図から読み取れる景観として正しいものを、1~4の中から1つ選び、その番号を書きなさい。 10

- 1 いわせ おやま 石清尾山から見て、東に広がる平地の大部分に市街地が広がっている。
- 2 すなはま 海岸部には、自然の砂浜海岸が続いていて、浜辺には畑が広がっている。
- 3 いなりやま 石清尾山や稲荷山などの山地の大部分には、斜面を切り開いた水田が見られる。
- 4 こうとうがわ 香東川の西に広がる平地では、農業が行われ果樹園が広がっている。

4

次の表1は、次の地図のA県～D県の統計資料を示しています（同じ記号は同じ県を示す）。これらを見て、あとの(1)～(3)の問いに答えなさい。

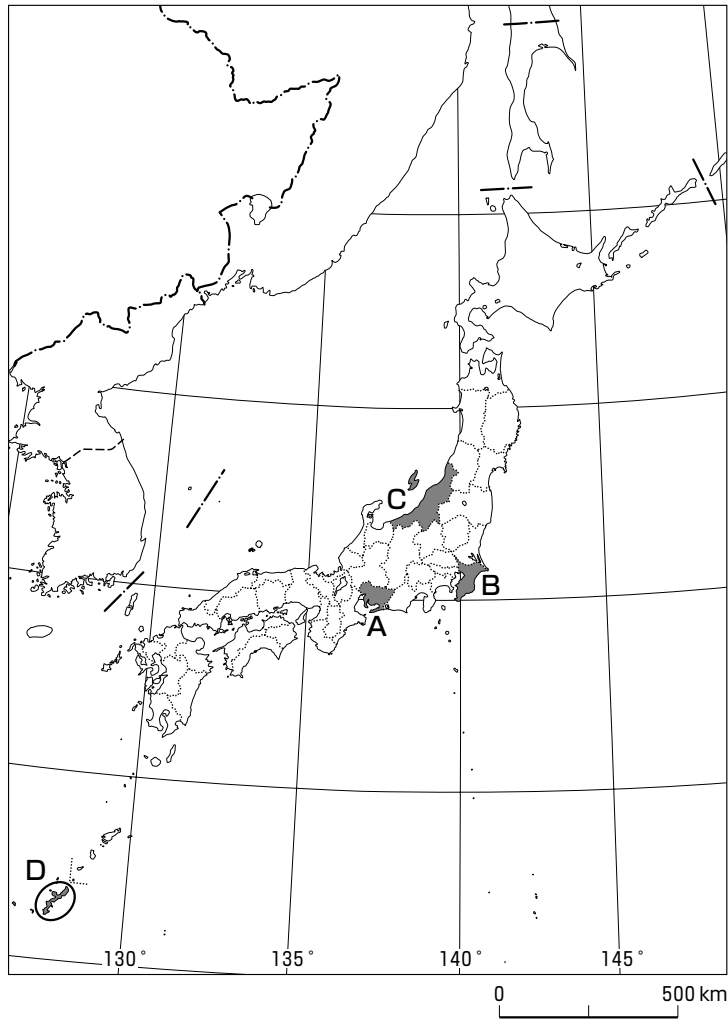


表1

県名	面積 (km ²)	人口 (千人)	産業別人口構成 (%)			農業産出額 (億円)	米の生産量 (千トン)	工業出荷額 (億円)
			第1次産業	第2次産業	第3次産業			
A	5163	7192	2.8	36.7	59.4	3259	162	357000
B	5157	6039	3.7	23.5	70.8	4319	352	109352
C	12583	2452	6.8	32.9	59.8	3281	595	44077
D	2274	1359	5.4	18.5	75.1	931	3	6106
全国	372871	127687	4.7	28.2	65.6	89986	8730	2762302

注1) 第1次産業：農林水産業，第2次産業：鉱工業・建設業など，第3次産業：商業・金融業・運輸業・サービス業など。

注2) 産業別人口の全体には分類できないものもふくまれるため，第1次から第3次までを合計しても100%にならない。

注3) 「全国」は，全都道府県の数値の合計または平均を示している。

(2006年版「県勢」から作成)

(1) 表1をもとにして判断できることを、1～4の中から1つ選び、その番号を書きなさい。 ⑩

- 1 各県の第3次産業の人口増加率の推移
- 2 各県の産業別人口にしめる高齢者の割合
- 3 各県の農業産出額にしめる米の産出額の割合
- 4 各県の全国と比較した産業別人口構成の特徴

(2) A～D県について、表1から読み取れることとして正しいものを、1～4の中から1つ選び、その番号を書きなさい。 ⑪

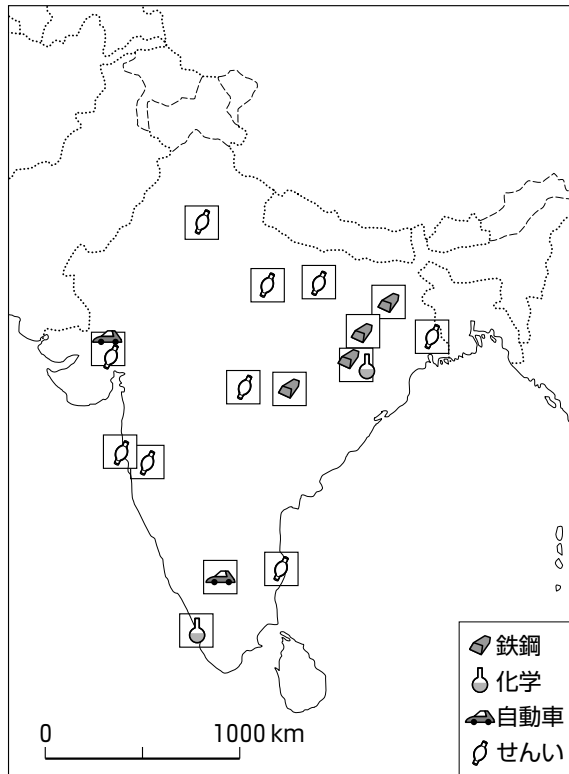
- 1 A県は、4県の中で工業出荷額がもっとも多い。しかし、第1次産業人口の割合は4県の中で最低であり、農業産出額はもっとも少ない。
- 2 B県は、C県よりも面積は小さいが、農業産出額は多い。また、米の生産量はC県よりも少ない。
- 3 C県は、4県の中で面積は最大である。また、第1次産業人口の割合がもっとも高く、農業産出額も4県の中でもっとも多い。
- 4 D県は、4県の中で農業産出額、米の生産量、人口のいずれも、もっとも少ない。第1次産業人口の割合は、全国平均よりも低い。

(3) 工業出荷額が多いA県とB県を、それが少ないC県やD県と比べると、どんな共通点がありますか。表1の人口や県の位置に着目して、「A県とB県は」に続けて書きなさい。 ⑫

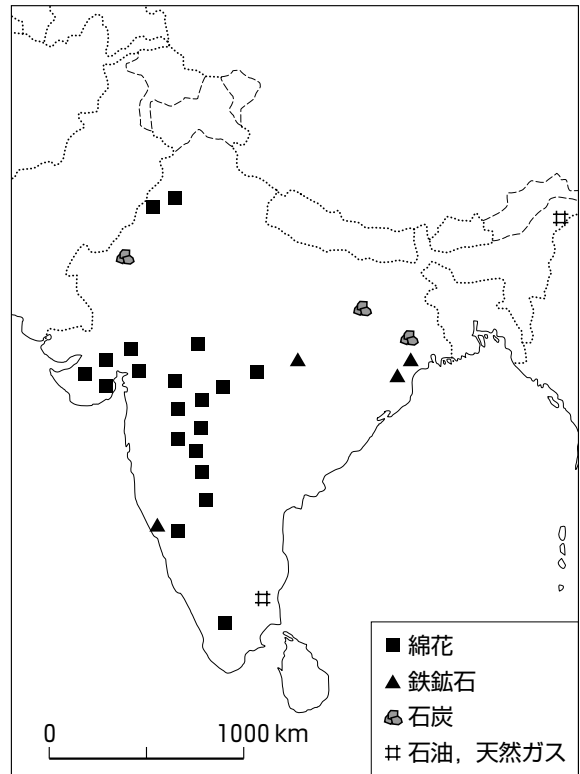
5

ひろしさんたちのグループは、インドについて調べるために、次の2つの地図と統計資料を集めました。これを見て、あとの(1)、(2)の問いに答えなさい。

地図1 (インドの産業)



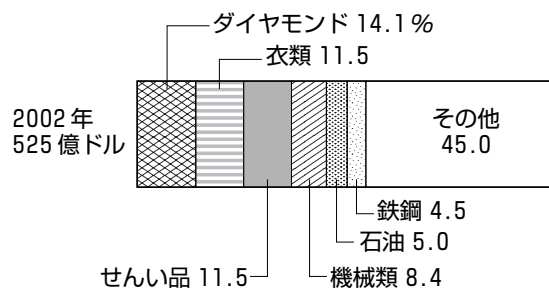
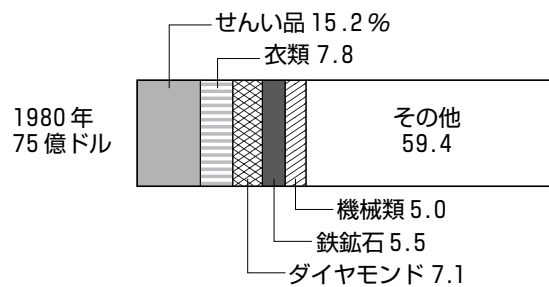
地図2 (インドの農作物と鉱産資源)



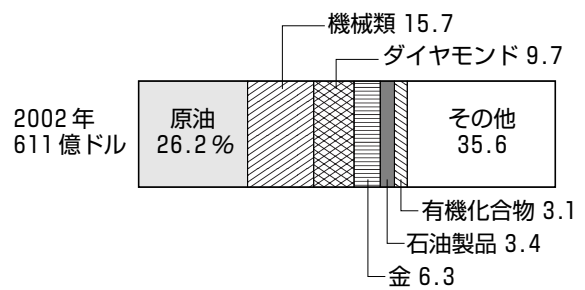
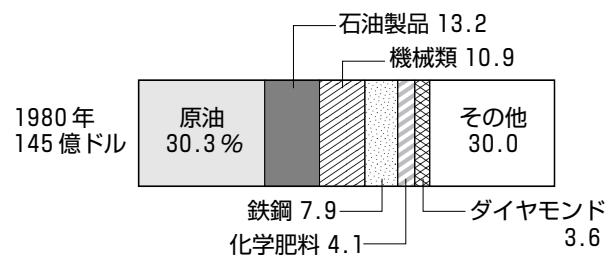
(アレクサンダー地図帳 1998年版ほか)

●インドの貿易の変化(単位%)

輸出品の移り変わり



輸入品の移り変わり



(世界国勢図会 1985, 2005/06年版)

(1) ひろしさんたちは、地図1と地図2を比較して読み取ったことをまとめました。正しいものを、1～4の中から1つ選び、その番号を書きなさい。 ⑭

- 1 鉄鋼業は、鉄鉱石か石炭が産出されている地域やその周辺でさかんである。
- 2 化学工業は、石油、天然ガスが産出されている地域でさかんである。
- 3 自動車は、鉄鉱石が産出されている地域で製造されている。
- 4 せんい工業は、綿花栽培がさかんな地域にしか見られない。

(2) 統計資料のグラフは、1980年と2002年のインドの輸出品と輸入品の割合を表しています。これらから読み取れることとして正しいものを、1～4の中から1つ選び、その番号を書きなさい。 ⑮

- 1 輸出品でもっとも大きな割合をしめるものは、軽工業製品から重化学工業製品に変わってきている。
- 2 輸入品の中心は、鉱産資源から工業製品に変わってきている。
- 3 輸入品では、1980年も2002年も原油がもっとも大きい割合をしめている。
- 4 1980年では、輸入額が輸出額を大きく上回っていたが、2002年では、逆に輸出額が輸入額を上回るようになった。

6

さゆりさんは、「古代までの日本の歴史」について調べたことを年表にまとめました。これを見て、あとの(1)～(4)の問いに答えなさい。

時代	できごと
旧石器 縄文 弥生 古墳 飛鳥 奈良 平安	<div style="border: 1px solid black; padding: 10px; margin-bottom: 10px; text-align: center;">ア</div> <div style="border: 1px solid black; padding: 10px; margin-bottom: 10px;"> ・聖徳太子が政治改革を行う。……………イ ・中大兄皇子らが大化の改新をはじめる。 ・聖武天皇が全国に国分寺・国分尼寺をつくらせる。 ・桓武天皇が律令制度の立て直しをはかる。 </div> <div style="border: 1px solid black; padding: 10px; margin-bottom: 10px; text-align: center;">ウ</div>

(1) 次の①～③のことがらは、年表中の「ア」の時期の人々の生活について説明したものです。これらのことがらを時代順に並べかえて、その番号を書きなさい。 ⑯

- ① 稲作が広まると、土地や水をめぐる争いが各地でおこった。
- ② 有力なむらが、まわりのむらをしたがえて、小さなくにができた。
- ③ 人々は集団で狩りや漁を行い、たて穴住居に住むようになった。

(2) 年表中の A について、この部分に題をつけるとすれば、どれがもっともふさわしいですか。1～4の中から1つ選び、その番号を書きなさい。 ⑰

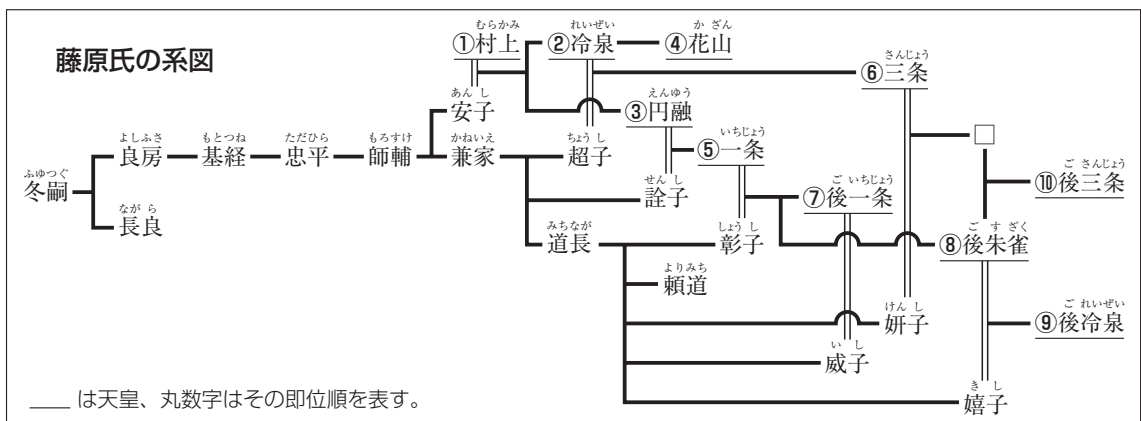
- 1 古代の都と中国文明
- 2 天皇中心の政治の展開
- 3 武士の登場と台頭
- 4 日本と東アジアの交流

- (3) 次の資料は、年表中のイに関するものです。この内容についてあてはまるものを、あとの1～4の中から1つ選び、その番号を書きなさい。 18

一に曰く、和をもって貴しとなし、さからう(争う)ことなきを宗と(第一に)せよ。
 二に曰く、あつく三宝を敬え。三宝とは仏・法(仏教の教え)・僧なり。
 三に曰く、詔(天皇の命令)をうけたまわりては必ずつつしめ(守りなさい)。

- 1 十七条の憲法をつくり、役人の心がまえを示した。
- 2 大宝律令をつくり、全国を支配するしくみを定めた。
- 3 墾田永年私財法を制定し、土地の私有を認めた。
- 4 冠位十二階の制をつくり、才能のある人物を取り立てようとした。

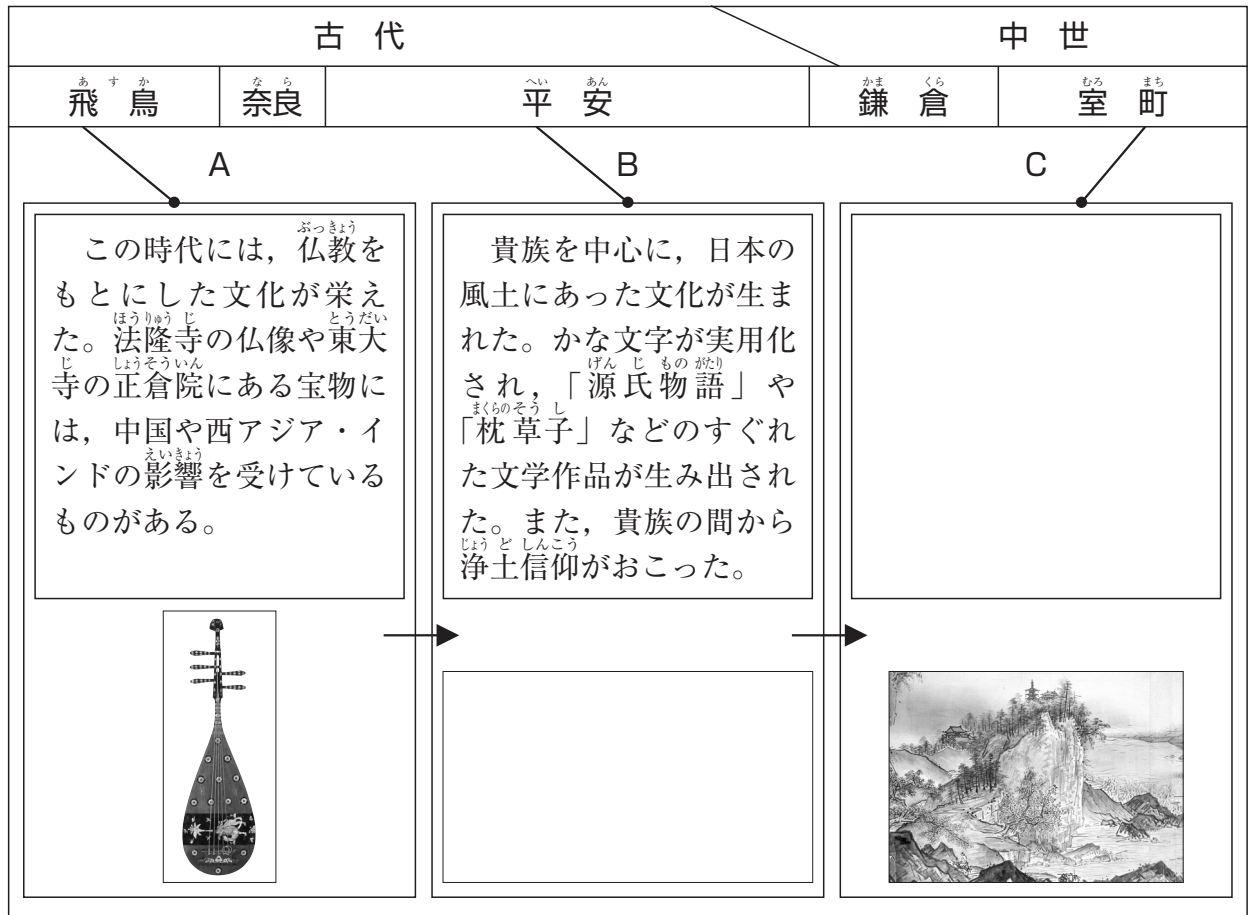
- (4) 年表中のウにあてはまる文を、次の資料を参考にして、あとの1～4の中から1つ選び、その番号を書きなさい。 19



- 1 太政大臣となって、政治の実権をにぎる。
- 2 摂政や関白となって、天皇にかわって政治を行う。
- 3 征夷大將軍に任命され、幕府をひらく。
- 4 執権という地位について、政治の実権をにぎる。

7

たくやさんは、「古代から中世の文化の移り変わり」について、A、B、Cの3枚のカードをまとめ、発表をすることになりました。これらを見て、あとの(1)～(3)の問いに答えなさい。(→は時代の流れを、●は、カードにまとめた文化がおこった時代を示しています。)



- (1) たくやさんは、A、Bのカードからわかる「古代の文化の変化の様子」を次のようにまとめてみました。下の□の文中にあてはまることばの組み合わせとして適切なものを、あとの1～4の中から1つ選び、その番号を書きなさい。 ②

古代の文化は□ア□文化から、やがて□イ□文化へと移り変わっていった。

- | | | | | |
|---|---|------|---|------|
| 1 | ア | 武士的な | イ | 貴族的な |
| 2 | ア | 貴族的な | イ | 武士的な |
| 3 | ア | 日本的な | イ | 国際的な |
| 4 | ア | 国際的な | イ | 日本的な |

(2) Bのカードの□に入れる文化財として適切なものを、1～4の中から1つ選び、その番号を書きなさい。

21

1



2



3



4



(3) Cは、「中世の文化」のカードです。このカードの□に入れる説明文として適切なものを、1～4の中から1つ選び、その番号を書きなさい。

22

- 1 武士が信仰した禅宗の影響が見られる文化で、書院造という新しい建築様式が取り入れられ、墨一色で自然をえがいた絵がかかれた。
- 2 大陸や朝鮮半島から青銅器や鉄器が伝えられ、青銅器はおもに祭りの道具として使われ、鉄器は武器や工具、農具として使われた。
- 3 大名や大商人が好んだ豪華で壮大な文化が発達し、城の内部は、はなやかな色彩のふすま絵やびょうぶ絵でかざられた。
- 4 朝鮮半島から移り住んだ渡来人によって、固い質の土器やはた織りの技術、仏教・儒教などが伝えられ、その後の日本の宗教や文化に大きな影響をあたえた。

8

みきさんは、「中世の日本」について、国内の動きと外国との関係を年表にまとめました。これを見て、あとの(1)～(3)の問いに答えなさい。

国内の動き	時代	外国との関係
	へいあん 平安	たいらのきよもり そう ・平清盛が宋と貿易をはじめる。
じょうきゅう ・承久の乱がおこる。 …1 ごせいばいしきもく ・御成敗式目が制定される。 …A	かまくら 鎌倉	・ <input type="text"/>
ばくふ とくせいれい ・幕府が徳政令を出す。 けんむ しんせい ・建武の新政がはじまる。 …2		
なんぼくちよう ・南北朝の争乱がはじまる。 …3	むろまち 室町	あしかがよしみつ みん ・足利義満が明と貿易をはじめる。
おうにん ・応仁の乱がおこる。 …4		

(1) 年表中の の時期にあてはまるできごとを、1～4の中から1つ選び、その番号を書きなさい。 ㉓

- 1 くうかい とう しんごんしやう
空海が唐から帰国し、真言宗を伝える。
- 2 げん せ
元が2度にわたって九州に攻めてくる。
- 3 おののいもこ けんずいし はけん
小野妹子が遣隋使として派遣される。
- 4 さかのうえのたむらまろ えみし ていこう
坂上田村麻呂が蝦夷の抵抗をおさえる。

(2) 次のような変化が生まれたのは、年表中のどのできごとの影響ですか。年表中の1～4の中から1つ選び、その番号を書きなさい。 ㉔

戦乱が全国に広まった結果、下剋上の風潮が高まり、戦国大名という新しい支配者が登場した。

- (3) 次の資料は、年表中の A の一部です。資料を参考に、A の法令を正しく説明したものを、あとの1～4の中から1つ選び、その番号を書きなさい。 ㊥

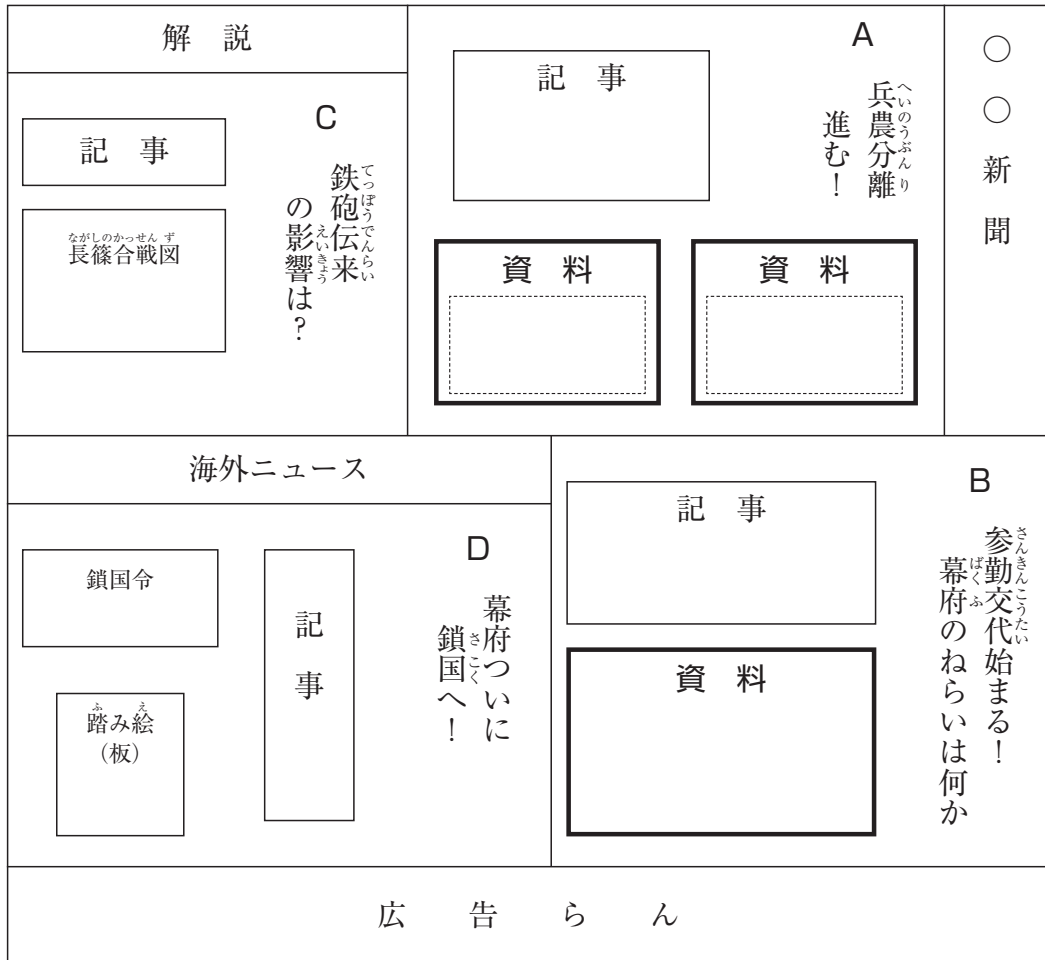
一、 諸国の守護の仕事は、頼朝公のときに定められたように、京都の御所の警備と、犯罪人の取りしまりである。

一、 武士が20年以上の間、実際に土地を支配しているならば、その者の所有になる。

- 1 武家社会のしきたりや裁判の基準をまとめたものである。
- 2 家臣や農民・商人を統制しようとして定めたものである。
- 3 大名を厳しく統制し、幕府に反抗できないようにしたものである。
- 4 政治を行うときの細かいきまりや、刑罰のきまりを定めたものである。

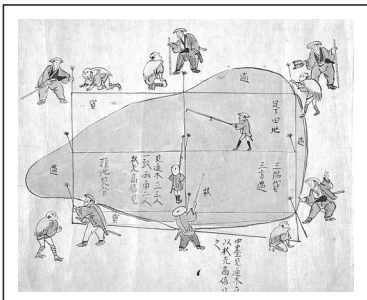
9

はるかさんは、「近世のはじまりと歴史の大きな変化」について調べ、歴史新聞にまとめることにしました。次の図はその下書きです。これを見て、あとの(1)～(4)の問いに答えなさい。




(1) Aには、トップ記事として、豊臣秀吉の政策の^{とよとみひでよし}記事の^の記事を載せようと思います。資料の空らんにあてはまるものを、1～4の中から2つ選び、その番号を書きなさい。 ㉞

1



2



3 一、よそ者は身元保証人がなければ、村においてはならない。

4 諸国の百姓が、刀やわきざし、弓、やり、鉄砲、その他の武具を持つことを固く禁止する。

※この図は、江戸時代のものです。この時代も同じように行われていたと考えられています。

- (2) Bには、江戸幕府の大名統制^{だいみょう}についての記事を書くつもりで、次の資料を見つけました。この資料から読み取ることができる幕府の政策のねらいとして適切なものを、あとの1～4の中から1つ選び、その番号を書きなさい。 ㉗

一、大名は、毎年4月中に江戸に参勤すること。(「武家諸法度」^{ぶけしよはつと})

- 1 大名の経済力を弱めるため。
- 2 大名に農民を厳しく支配させるため。
- 3 大名が朝廷^{ちやうてい}にしたがわないようにするため。
- 4 大名と地方の武士が結びつかないようにするため。

- (3) Cの記事として、鉄砲伝来の社会への影響を書くつもりです。右の資料を参考にして、鉄砲伝来がもたらした戦い方の変化について、簡単に説明しなさい。 ㉘




- (4) Dには、海外ニュースとして江戸幕府の鎖国政策についての記事を書こうとしています。この記事の内容として適切なものを、次の資料1と資料2を参考にして、あとの1～4の中から1つ選び、その番号を書きなさい。 ㉙

資料1 鎖国令

- 一、 異国へ奉書船^{ほうしよせん}以外の船を派遣^{はけん}することを固く禁止する。
- 一、 異国へ渡り移住^{わた}している日本人が帰国したら死刑^しにする。

*奉書船^{ほうしよせん}：朱印状^{しゆいんじやう}と老中^{らうぢゆう}の許可状をもつ船

資料2 踏み絵

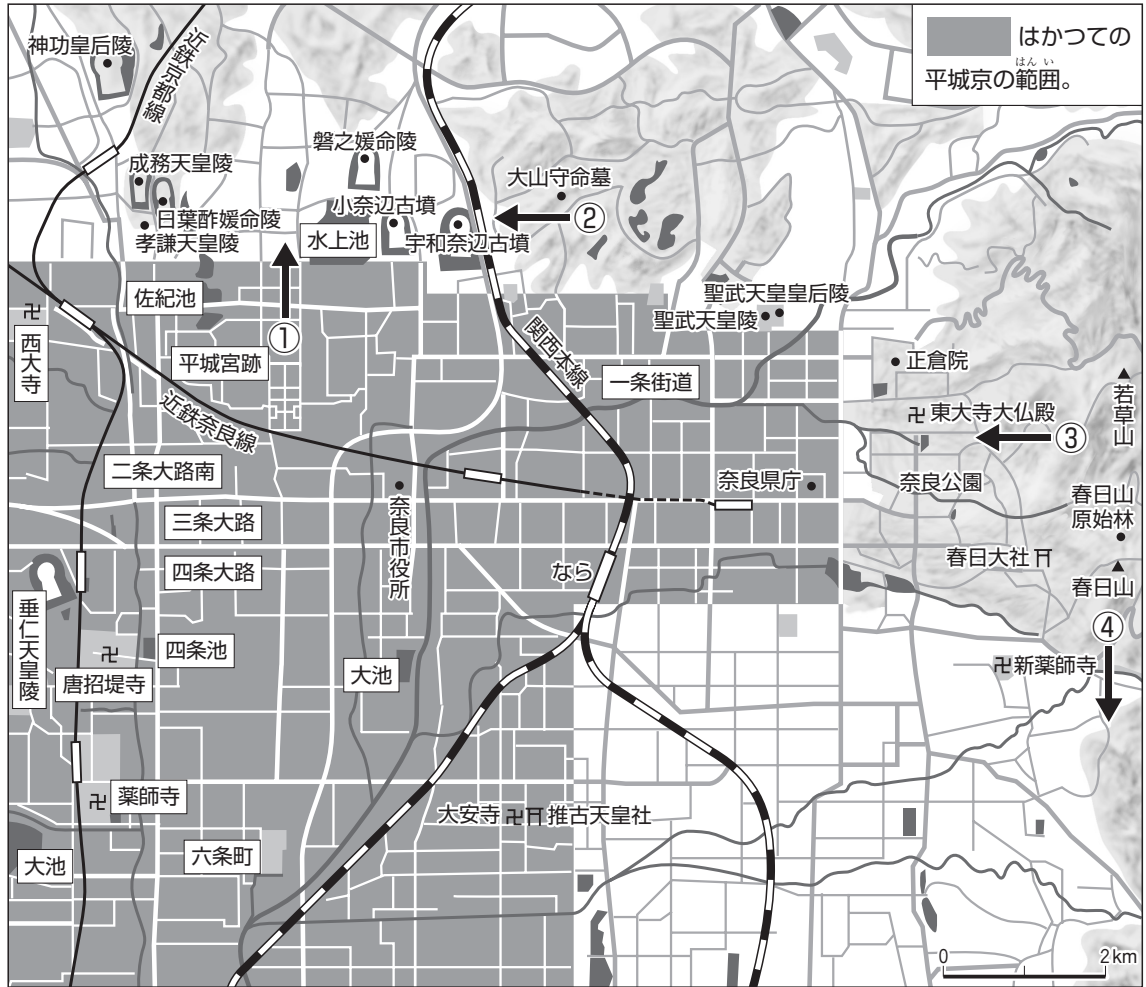


- 1 中国が倭寇^{わこう}の取りしまりを日本に求めてきたため、江戸幕府は鎖国政策をとった。
- 2 農民が成長し、自治的な組織ができるようになったため、江戸幕府は鎖国政策をとった。
- 3 キリスト教の取りしまりを強化し、貿易を統制するため、江戸幕府は鎖国政策をとった。
- 4 豊臣秀吉の侵略^{しんりやく}でとだえていた朝鮮^{ちやうせん}との関係を完全に断つために、江戸幕府は鎖国政策をとった。

10

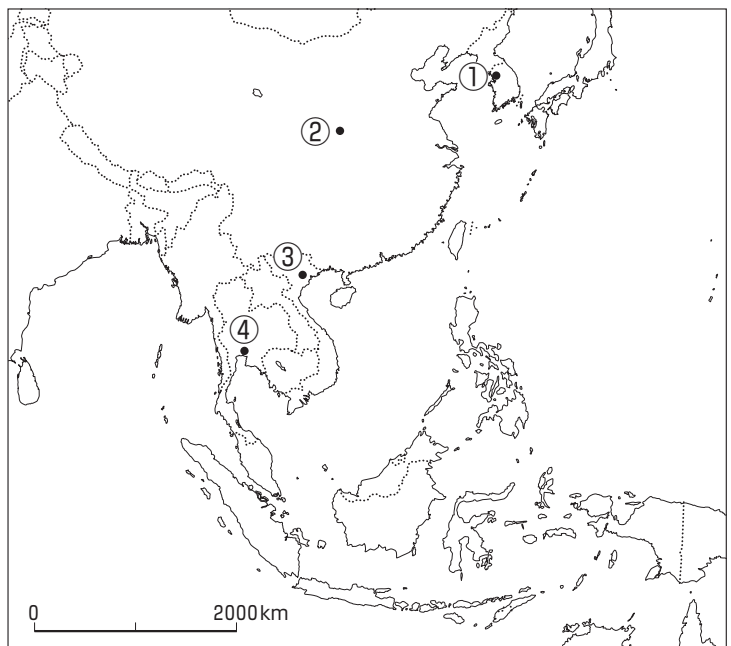
みゆきさんのグループは、修学旅行で行くことになった奈良市を調べました。地図1と地図2を見て、あとの(1)~(4)の問いに答えなさい。

地図1




地図2

- (1) 地図1の「平城宮跡」は、710年に移された平城京の中心だったところです。平城京は、右の地図2中のどの都市にあった都にならってつくられましたか。地図2中の①~④の中から1つ選び、その番号を書きなさい。



- (2) 次の写真は、地図1中のある地点から撮影したものです。どの地点から撮影したのですか。正しいものを、地図1中の①～④の中から1つ選び、その番号を書きなさい。なお、地図中の①～④は撮影した地点を示し、矢印は撮影した方角を示しています。

31



- (3) 地図1をもとに判断したこととして正しいものを、1～4の中から1つ選び、その番号を書きなさい。

32

- 1 地図中の西部にある「垂仁天皇陵」は日本でもっとも面積が大きい古墳であることがわかった。
- 2 奈良盆地の道路にゆるやかなカーブが多いのは、平城京のなごりであることがわかった。
- 3 地図中の北西部にある「水上池」、佐紀池、南西部にある「大池」などの自然の池が多いのは、盆地で雨が多いためであることがわかった。
- 4 地図中の西部に見られる「二条」、「六条」などといった地名は、平城京のなごりであることがわかった。

- (4) みゆきさんたち4人は、奈良市の古代から中世の様子について調べ、それぞれわかったことをまとめて発表しました。発表の内容が正しいものを、1～4の中から1つ選び、その番号を書きなさい。

33

- 1 さやか 東大寺南大門の金剛力士像は、奈良時代ではなく、鎌倉時代につくられました。
- 2 しんじ 唐招提寺は、唐から天台宗を伝えた最澄によって、平城京内に建てられました。
- 3 みゆき 平城宮跡の南の山すそに多く見られる古墳は、貴族や豪族の権力を示すためにつくられました。
- 4 けいた 平城京では、都に送られてきた産物が売買され、宋から輸入された貨幣(宋銭)が使われました。